

Όνομα:

ΜΑΘΗΜΑΤΙΚΑ

“ΕΙΣΑΓΩΓΗ ΣΤΑ ΚΛΑΣΜΑΤΑ”

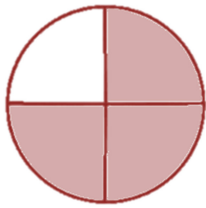


Ε

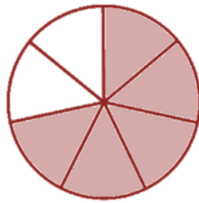
...../...../.....

Ασκήσεις

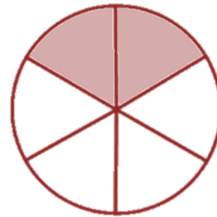
1. Γράφω το κλάσμα δίπλα από την κάθε εικόνα.



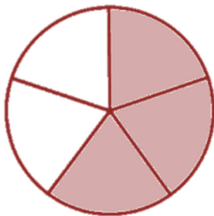
—



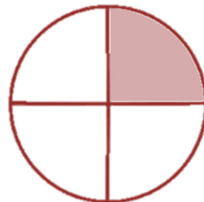
—



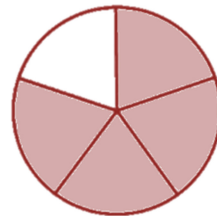
—



—



—



—

2. Συμπληρώνω τις προτάσεις.

↪ Ο αριθμητής ενός κλάσματος δηλώνει


↪ Η κλασματική γραμμή δηλώνει

↪ Ο παρονομαστής ενός κλάσματος δηλώνει




3. Χρωματίζω το μέρος του σχήματος που λέει το κλάσμα.


$$\frac{5}{8}$$



$$\frac{1}{4}$$



$$\frac{2}{6}$$



$$\frac{4}{10}$$

